



# 5.SINIF



DİN ÖĞRETİMİ  
GENEL MÜDÜRLÜĞÜ

## ÖĞRENCİ SEÇME SINAVI

T.C.  
MİLLÎ EĞİTİM BAKANLIĞI  
FEN VE SOSYAL BİLİMLER LİSESİ PROJESİ UYGULAYAN  
BÜNYESİNDE İMAM HATİP ORTAOKULU BULUNAN

BURSA MERKEZ ANADOLU İMAM HATİP LİSESİ  
NİZAM KARASU ANADOLU İMAM HATİP LİSESİ  
BURSA TÜRKİYE ODALAR VE BORSALAR BİRLİĞİ ANADOLU İMAM HATİP LİSESİ  
YENİŞEHİR YUSUF ATEŞ ANADOLU İMAM HATİP LİSESİ

## AÇIKLAMA

1. Bu sınavda **Türkçe** (15 Soru) - **Sosyal Bilgiler** (10 Soru) - **Din Kültürü ve Ahlak Bilgisi** (5 Soru) - **İngilizce** (10 Soru) - **Matematik** (15 Soru) - **Fen Bilimleri** (15 Soru) olmak üzere altı bölüm bulunmaktadır.
2. Öğrenciler, **Türkçe** sorularının cevaplarını cevap kâğıdındaki **Türkçe bölümüne**, **Sosyal Bilgiler** sorularının cevaplarını **Sosyal Bilgiler bölümüne**, **Din Kültürü ve Ahlak Bilgisi** sorularının cevaplarını **Din Kültürü ve Ahlak Bilgisi bölümüne**, **İngilizce** sorularının cevaplarını **İngilizce bölümüne**, **Matematik** sorularının cevaplarını **Matematik bölümüne**, **Fen Bilimleri** sorularının cevaplarını **Fen Bilimleri bölümüne** işaretleyecektir.
3. Sınavın süresi 100 dakikadır.
4. Her sorunun sadece bir doğru cevabı vardır. Bir soru için birden çok cevap yeri işaretlenmişse o soru yanlış cevaplanmış sayılacaktır. 3 yanlış 1 doğruyu götürmektedir.
5. Cevaplarınızı koyu siyah ve yumuşak bir kurşun kalemle işaretleyiniz. İşaretlerinizi cevap yerlerinin dışına taşırmayınız. Tükenmez kalem veya dolma kalem kullanmayınız.

### ÖRNEK KODLAMA



6. Cevap kâğıdınızı buruşturmayınız, katlamayınız ve üzerine gereksiz hiçbir işaret koymayınız.
7. Değiştirmek istediğiniz bir cevabı, yumuşak bir silgi ile cevap kâğıdını örselemeden temizce siliniz ve yeni cevabınızı işaretlemeyi unutmayınız.
8. Cevap kâğıdı haricinde yapılan cevaplandırmalar dikkate alınmayacaktır.
9. Soruların çözümü için size ayrıca boş kâğıt verilmeyecektir. Sorular arasındaki boş alanları çözümlerinizi için kullanabilirsiniz.
10. Cevaplamaya, istediğiniz testin sorusundan başlayabilirsiniz. Cevabını bilmediğiniz sorular üzerinde fazla zaman kaybetmeden diğer sorulara geçiniz. Zamanınız kalırsa bu sorulara daha sonra dönebilirsiniz.
11. Sınav bitiminde cevap kâğıdını salon görevlilerine teslim ediniz.





**TÜRKÇE**

1.

1.	Banyoya gidip dişlerini fırçaladı.
2.	Yatağına girip yattı.
3.	Artık uykusu da gelmişti.
4.	Odasına gidip pijamalarını giydi.
5.	Ödevlerini bitirdiği için çok mutluydu.

**Tabloda verilen olayların oluş sırasına göre sıralanışı aşağıdakilerden hangisidir?**

- A) 2-4-1-5-3      B) 5-2-4-1-3      C) 3-2-1-5-4      D) 5-3-1-4-2

2.



(1) Dünya, uzayda yer alan Güneş sistemi içerisinde yer alıyormuş. (2) Güneş sisteminde bizimle birlikte tam sekiz gezegen yer alıyormuş. (3) Güneş'e yakınlık mesafelerine göre gezegenler sıralandığında dünya, üçüncü sırada yer alıyormuş. (4) Güneş'e yakınlığına göre gezegenleri: Merkür, Venüs, Dünya, Mars, Jüpiter, Satürn, Uranüs, Neptün şeklinde sıralayabiliriz.

**Yukarıdaki metnin hangi cümlesinde büyük harfin kullanımıyla ilgili hata yapılmıştır?**

- A) 1.      B) 2.      C) 3.      D) 4.

3. **Aşağıdakilerin hangisi eğik çizginin kullanıldığı yerlerden biri değildir?**

- A) Satıra sığmayan kelimeler bölünürken satır sonuna konur.  
B) Adres yazarken apartman numarası ile daire numarası arasına ve semt ile şehir arasına konur.  
C) Tarihlerin yazılışında gün, ay ve yılı gösteren sayıları birbirinden ayırmak için konur.  
D) Genel ağ adreslerinde kullanılır.



4. Küçük harflerle yapılan kısaltmalara getirilen eklerde kelimenin okunuşu esas alınır: cm'yi, kg'dan, mm'den, kr.un. Büyük harflerle yapılan kısaltmalara getirilen eklerde ise kısaltmanın son harfinin okunuşu esas alınır: BDT'ye, TDK'den, TL'nin, TRT'den...

**Buna göre aşağıdaki cümlelerin hangisinde verilen kurala uyulmuştur?**

- A) Bugün TBMM'ne gittik.  
B) Uçak firmaları yirmi kg'den fazla bagaj almıyor.  
C) Kapıyı çalıp Prof'un odasına girdi.  
D) Babası THY'de çalışıyormuş.

5.

1.	Bugünler de geçer, gülümseyerek hatırlarsın.
2.	Oysa ki gençliğinde köyün en sevilen kişisiydi.
3.	Evde yumurta da süt de kalmamış.
4.	Dedemlerde babamla birlikte mi gelecekler?

**Tablodaki cümlelerin hangilerinde “de” ve “ki”nin kullanımı doğrudur?**

- A) 1 ve 3                      B) 2 ve 4                      C) 1 ve 2                      D) 3 ve 4

6. **Aşağıdaki cümlelerin hangisinde pekiştirmeli sözcük kullanılmamıştır?**

- A) Koridorda koskoca bir kütüphane vardı ve tüm rafları kitap doluydu.  
B) Yanımdan geçerken tanıyormuş gibi yüzüme baktı.  
C) Okulun bahçesi pırl pırl çocuklarla yine dolup taşmıştı.  
D) Öğretmen etrafını çepeçevre kuşatan çocuklarına sevgiyle baktı.



### TÜRK HALK OYUNLARI

Türk halk oyunları, Türkiye sınırları içerisinde yapılan halk danslarıdır. Türkiye’de çeşitli biçimlerde yapılan çok çeşitli halk oyunu türleri vardır ve bunlar her bölgenin kültürel yapısını yansıtır. Türkiye’de oynanan halk oyunları türleri şunlardır:

**HORA:** Dansçıların el ele ve kol kola tutuşarak ritmik şekilde yan yana oynadıkları halk oyunu türüdür. Edirne, Kırklareli, Tekirdağ ve Çanakkale şehirlerinde oynanır.

**ZEYBEK:** Tek kişi ya da daire hâlinde dizilmiş kişilerin bireysel olarak oynadıkları halk oyunu türüdür. Aydın, İzmir, Muğla, Denizli, Bilecik, Eskişehir, Kütahya, Çanakkale, Kastamonu, Uşak, Manisa, Balıkesir ve Burdur şehirlerinde oynanır.

**KAŞIK OYUNU:** Dansçıların ellerinde kaşıkla ritim tutarak dans ettikleri halk oyunudur. Eskişehir, Afyon, Kütahya, Bilecik, Kırşehir, Konya, Mersin, Antalya, Bolu ve Bursa’da kaşık dansı görülür.

**KARŞILAMA:** İki kişinin karşılıklı durarak oynadıkları bir oyun biçimidir. Edirne, Tekirdağ, Kırklareli, İzmit, Adapazarı, Çanakkale, Bursa, Bilecik’te oynanır.

**HORON:** Oyuncuların yan yana dizilerek, birbirine tutunarak oynadığı oyunlardır. Kemençe veya davul da bu horona eşlik eder. Trabzon, Samsun, Artvin, Ordu ve Rize’de bolca horon görebiliriz.

**HALAY:** Oyuncuların birbirine tutunarak oynadığı oyun türü de halaydır. Doğu, Güneydoğu ve Orta Anadolu’da davul ve zurna eşliğinde oynanır. Ayrıca Bitlis, Bingöl, Diyarbakır, Elâzığ, Malatya, Kahramanmaraş, Gaziantep, Erzurum ve Erzincan gibi birçok yörede görülür.

**BAR:** Yan yana düz ya da yarım ay biçiminde, oyuncuların birbirlerine tutunarak oynadıkları disiplinli grup oyunlarına bar denir. Doğu ve Kuzeydoğu Anadolu bölgelerinde görülen bir oyun türüdür.

**7, 8 ve 9. soruları “TÜRK HALK OYUNLARI” adlı metne göre cevaplayınız.**

7. Eskişehir, Afyon, Kütahya, Bilecik, Kırşehir, Konya, Mersin, Antalya, Bolu ve Bursa gibi illerimizde oynanan halk oyunlarına verilen genel ad hangisidir?

A)



Kaşık Oyunu

B)



Horon

C)



Zeybek

D)



Bar

8. Doğu ve Kuzeydoğu Anadolu bölgelerinde görülen oyunun oynanışı aşağıdakilerden hangisidir?

- A) Tek kişi ya da daire hâlinde dizilmiş kişiler bireysel olarak oynarlar.  
B) Dansçılar ellerinde kaşıkla ritim tutarak oynarlar.  
C) Yan yana düz ya da yarım ay biçiminde dizilen oyuncular birbirlerine tutunarak oynarlar.  
D) Dansçılar el ele ve kol kola tutuşarak ritmik şekilde yan yana oynarlar.

9. Aşağıdaki illerin hangisinde horon oyunu oynanmaz?

A) Ordu


B) Diyarbakır

C) Trabzon

D) Artvin



10.



1. “Genç” sözcüğünün zıt anlamlısı
2. “Kısa” sözcüğünün zıt anlamlısı
3. “Taze” sözcüğünün zıt anlamlısı
4. “Kuru” sözcüğünün zıt anlamlısı
5. “Parlak” sözcüğünün zıt anlamlısı

Numaralanan bilgilere göre bulmacayı doldurunuz.

**Buna göre renkli kutucuklara gelen harflerle oluşan sözcük için aşağıdakilerden hangisi doğrudur?**

- |                         |                        |
|-------------------------|------------------------|
| A) Bir gün adıdır.      | B) Bir hayvan türüdür. |
| C) Bir çiçek çeşididir. | D) Bir ay adıdır.      |


11. **Aşağıdakilerden hangisi deyimdir?**

- A) Yüzünden düşen bin parça olmak.
- B) İnsan yedisinde neyse yetmişinde de odur.
- C) Bir elin nesi var, iki elin sesi var.
- D) Yalnız taş duvar olmaz.

12. **Aşağıdaki cümlelerin hangisinde karşılaştırma yapılmıştır?**





- A) Ayşe, kitap okumayı sevdiğim için bana kitap hediye almış.
- B) Titanik Gemisi'nin batışı tarihin en büyük deniz kazası felaketidir.
- C) Patates yemeğini yedi, ayrıntı içti ve kalkıp gitti.
- D) Bebeğin kapkara gözleri, simsiyah kirpikleri vardı.

13.



Fakir sözcüğünün harfleri bazı hayvanlarla sembolenmiştir.

**Buna göre “siyah” sözcüğünün eş anlamlısının hayvan görselleriyle gösterilişi aşağıdakilerden hangisidir?**

- A) 
- B) 
- C) 
- D) 




**Tablo:** Beliz'in Tişörtlerinin Renkleri

Sarı	
Mavi	
Siyah	
Yeşil	
Gri	
Pembe	
Kırmızı	
Mor	

14 ve 15. soruları tabloya göre cevaplayınız.

14. Beliz'in pembe ve mor tişörtlerinin toplam sayısı aşağıdaki tişörtlerden hangisinin sayısına eşittir?



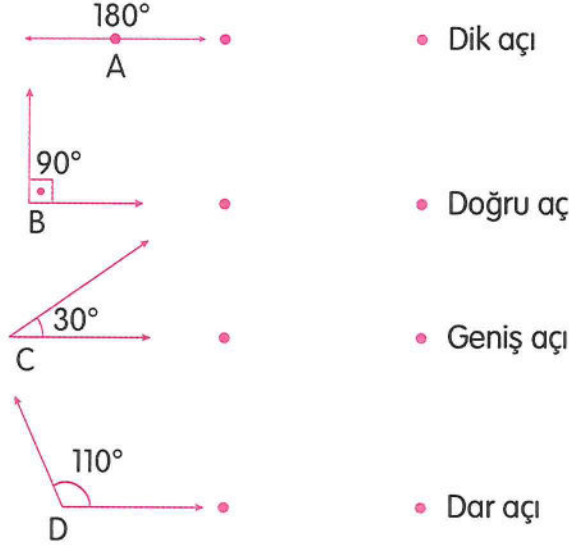
15. Tabloya göre Beliz'in farklı renlerdeki tişörtlerinden bazıları aynı sayıdadır. Aşağıdakilerden hangileri buna örnek verilemez?

- A) Kırmızı ve mavi B) Mor ve pembe  
C) Sarı ve gri D) Pembe ve siyah

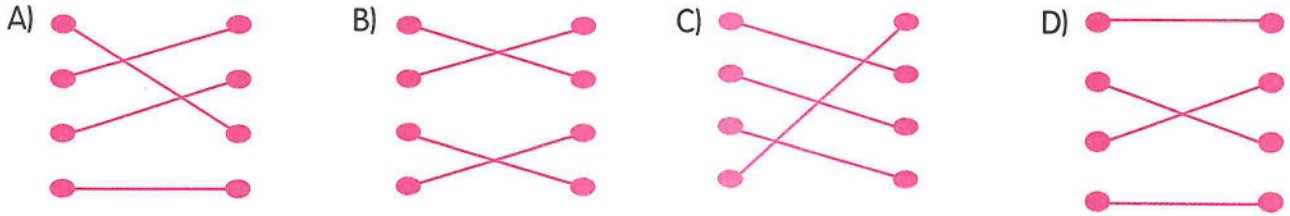
TÜRKÇE TESTİ BİTTİ.  
MATEMATİK TESTİNE GEÇİNİZ.

## MATEMATİK

1.

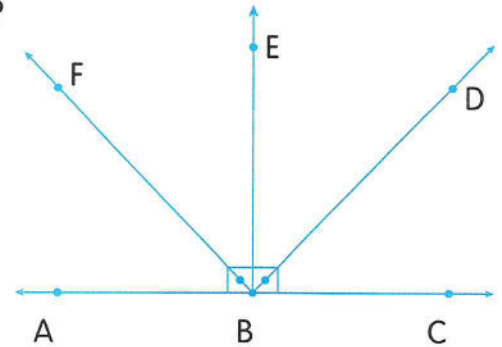


Yukarıdaki açı ve türlerinin doğru eşleştirilmiş hâli hangi seçenekte doğru verilmiştir?



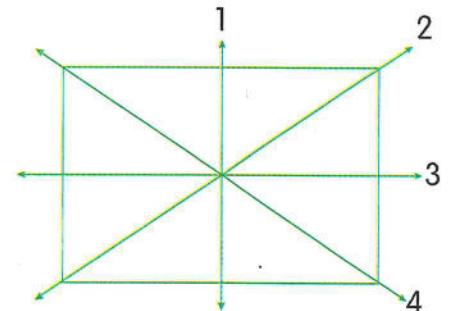
2. Yandaki açılarının türleri hangi seçenekte yanlış verilmiştir?

- A)  $\widehat{ABE}$  dar açıdır.  
B)  $\widehat{EBC}$  dik açıdır.  
C)  $\widehat{FBC}$  geniş açıdır.  
D)  $\widehat{ABC}$  doğru açıdır.

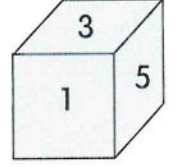


3. Yanda verilen dikdörtgen üzerindeki simetri doğruları, hangi seçenekte doğru yerden çizilmiştir?

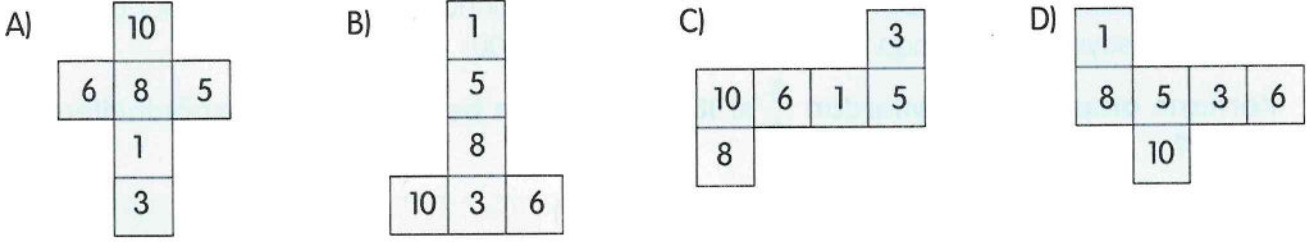
- A) 1, 2, 3 ve 4 numaralı simetri doğruları  
B) 2 ve 4 numaralı simetri doğruları  
C) 1 ve 2 numaralı simetri doğruları  
D) 1 ve 3 numaralı simetri doğruları




4. Yandaki birimküp üzerindeki sayılar tam arka yüzlerindeki sayı ile toplandığında 11 etmektedir.



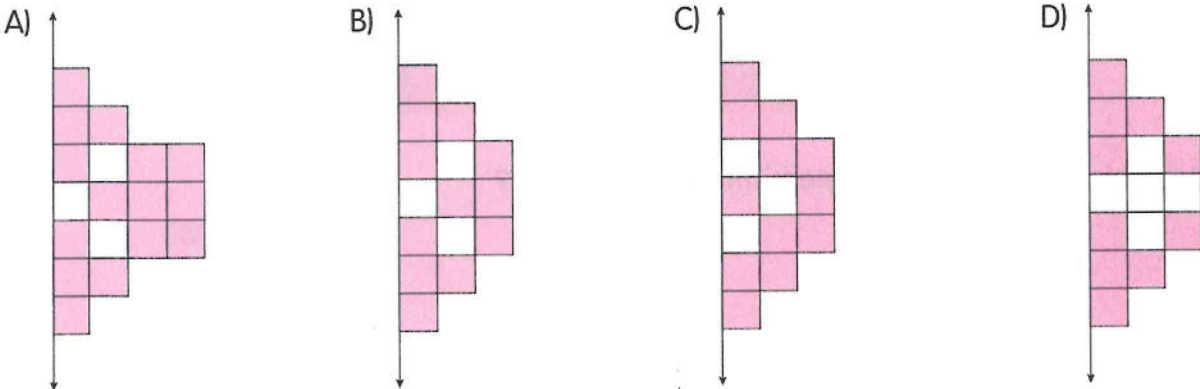

Buna göre bu küpün açılımını aşağıdakilerden hangisi gibi olamaz?



5. Aşağıda verilen harflerden hangisinin doğruya göre simetriği yanlış gösterilmiştir?




6. Yandaki şeklin doğruya göre simetriği hangi seçenekte doğru verilmiştir?









7.




Yukarıdaki kartların arka yüzünde, ön yüzündeki sayı ile toplandığında 100 eden sayılar bulunmaktadır. (Örnek, 25 sayısının arkasında 75 sayısı vardır.  $75 + 25 = 100$ )

**Kartların arkasındaki sayılardan  $\frac{3}{6}$ 'si 18 eden sayının bulunduğu kart aşağıdakilerden hangisidir?**



8.



**Tahtadaki işleme göre  $\bullet \times \triangle$  işleminin sonucu kaçtır?**

A) 94

B) 121

C) 144

D) 288

9. Aşağıdaki çıkarma işlemlerinden hangisinin sonucu bileşik kesirdir?

A)

$$\frac{6}{9} - \frac{3}{9}$$

B)

$$\frac{7}{8} - \frac{1}{8}$$


C)

$$\frac{15}{8} - \frac{7}{8}$$

D)

$$\frac{8}{9} - \frac{2}{9}$$

10.



Bir dakikada 36 adım atan Mert, bir buçuk saatte kaç adım atar?

A) 2240

B) 3240

C) 3450

D) 3554

11.



Zeynep hafta içi her gün 2 bardak süt içmektedir.

**Buna göre Zeynep 1 yılda kaç bardak süt içer?**


A) 260

B) 520

C) 580

D) 728

12.



**Yukarıda verilen eşyalardan kaç tanesinin yüzeyi düzlem modeline örnektir?**

A) 1

B) 2

C) 3

D) 4



13.



Yukarıda verilen ifadelerden doğru olanlara "D", yanlış olanlara "Y" yazıldığında hangi seçenekteki değerlendirme doğru olur?

- A) B) C) D)

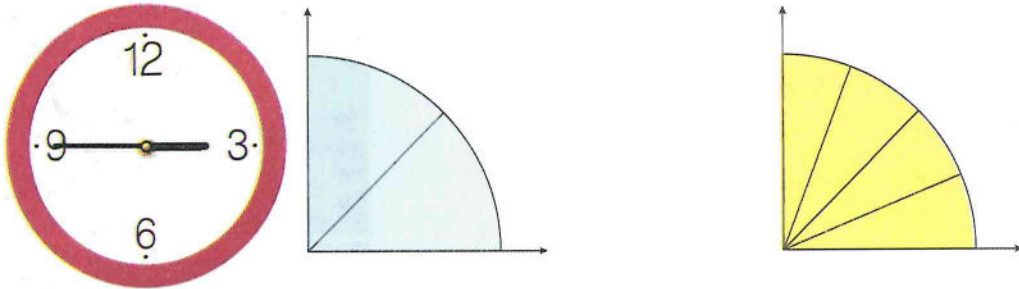
14.



Yanda verilen M açısını, hangi standart olmayan ölçü birimi ile ölçersek diğerlerinden daha az parça kullanırız?

- A) B) C) D)

15.



Resimdeki saatte akrep ve yelkovanın oluşturduğu açıyı, standart olmayan mavi ve sarı dilimleri kullanarak ölçersek kaç tane mavi ve sarı dilim kullanmış oluruz?

	Mavi	Sarı
A)	8	4
B)	6	4
C)	4	8
D)	4	6

**MATEMATİK TESTİ BİTTİ.**  
**FEN BİLİMLERİ TESTİNE GEÇİNİZ.**

## FEN BİLİMLERİ

1. Bir arabanın hareket yönü aşağıdaki gibidir.



Araç belirtilen yönde giderken üzerine başka bir kuvvet etki ediyor ve araç hızlanıyor.

**Buna göre araca sonradan etki eden kuvvetin yönü aşağıdakilerin hangisinde doğru verilmiştir?**

- A) B)   
C) D)

2. Ahmet K, L ve M maddelerinin nitelikleriyle ilgili olarak aşağıdaki gözlemleri yapıyor.

**K maddesi:** Suyu emmiyor ama suda yüzebiliyor.

**L maddesi:** Suda batıyor ve kırılğan.

**M maddesi:** Suyu emiyor ve mıknatıs tarafından çekiliyor.


**Buna göre K, L ve M maddeleriyle ilgili olarak,**

- I. K maddesi boş pet şişe olabilir.  
II. L maddesi toplu iğne olabilir.  
III. M maddesi cam olabilir.

**yargılarından hangileri doğrudur?**

- A) Yalnız I B) I ve II  
C) I ve III D) II ve III

3. Erhan fincanı önce boşken, daha sonra içine çay koyup terazinin üzerine bırakıyor. Terazinin gösterdiği değerler resimdeki gibi oluyor.




**Buna göre,**

- I. Erhan çayın hacmini ölçmüştür.  
II. Brüt kütle 80 gramdır.  
III. Fincanın darası 40 gramdır.

**yargılarından hangileri doğrudur?**

- A) Yalnız III B) I ve II  
C) I ve III D) II ve III

4. Sokak lambalarından bazıları aşağıda numaralanarak verilmiştir.



**Buna göre verilen lambalardan hangileri uygun aydınlatma sağlar?**

- A) Yalnız 2 B) 1 ve 2  
C) 2 ve 4 D) 3 ve 4



5. Aşağıda aydınlatma araçlarından bazıları numaralanarak verilmiştir.




Gaz lambası



Led ampul



Meşale

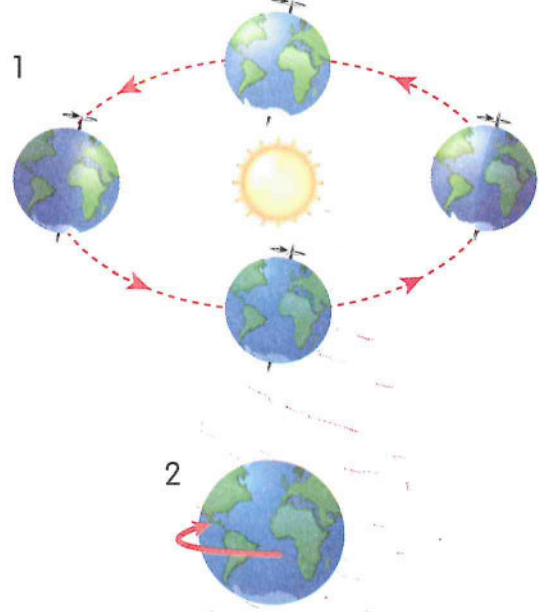


Floresan ampul

**Buna göre aşağıdakilerden hangisi yanlıştır?**

- A) I numaralı aydınlatma aracı, II numaralı aydınlatma aracına göre daha az tercih edilir.
- B) III numaralı aydınlatma aracı günümüzde de sıklıkla tercih edilir.
- C) II numaralı aydınlatma aracı, IV numaralı aydınlatma aracına göre daha tasarrufludur.
- D) IV numaralı aydınlatma aracı elektrik enerjisiyle çalışır.


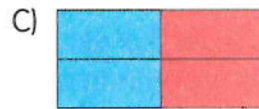


6. Aşağıdaki görselde Dünya'nın iki ayrı hareketi numaralanarak gösterilmiştir.



Bir öğrenci aşağıdaki tabloda 1 ile gösterilen hareket ile ilgili olanları kırmızıya, 2 ile ilgili olanları maviye boyayacaktır.

Hareket süresi 1 yıldır.	Sonucunda gece gündüz oluşur.
Dünya'nın dolanma hareketidir.	Dünya'nın günlük hareketidir.

**Buna göre tablonun doğru boyanmış hâli aşağıdakilerden hangisidir?**





7. Aşağıda farklı besin içerikleri bakımından zengin besinlerin görselleri verilmiştir.



**Buna göre aşağıdaki ifadelerden hangisi yanlıştır?**

- A) 1. görseldeki besinler protein bakımından zengindir.  
 B) 2. görseldeki besinlerin hepsi bitkisel kaynaktır.  
 C) 3. görselde besinlerdeki besin içeriği vücudumuza enerji verir.  
 D) Tüm görsellerdeki besinlerde su ve mineral bulunur.

8. Alkol karaciğer, beyin ve sinirlere zarar verir. Anne karnındaki bebeğin gelişimini olumsuz yönde etkiler. Midenin iç yüzeyini kaplayan tabakayı tahriş ederek, buna bağlı olarak mide yaralarına yol açar.

Alkol yemek borusu, gırtlak, mide ve pankreas kanserine neden olur. Diğer kanser türlerine yakalanma riskini de yüksek oranda artırır.

**Verilen metne göre alkol ile ilgili,**

- I. Sadece beyni etkiler.  
 II. Bazı kanserlerin oluşma sebebidir.  
 III. Gebelikte alkol kullanımı çocuğun sağlığına zarar verir.

**İfadelerinden hangileri doğrudur?**

- A) Yalnız I  
 B) Yalnız II  
 C) II ve III  
 D) I, II ve III

9. Pinpon oynanırken top rakibe doğru gider, rakip üzerine gelen topa vurarak karşı tarafa geçmesini sağlar.



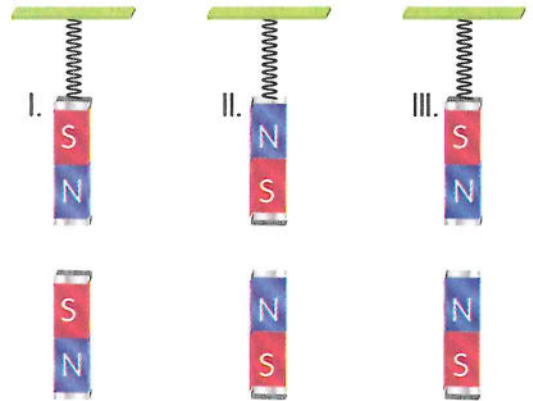
**Buna göre pinpon topunun oyun boyunca yaptığı hareketlerle ilgili olarak,**

- I. Yön değiştirme hareketi yapar.  
 II. Yavaşlama hareketi yapar.  
 III. Hızlanma hareketi yapar.

**Yargılarından hangileri söylenebilir?**

- A) I ve II  
 B) I ve III  
 C) II ve III  
 D) I, II ve III

10. Yapılan bir deneyde şekildeki 1, 2 ve 3. düzeneklerde birbiriyle özdeş mıknatıslar, özdeş yaylara asılıyor. Daha sonra her mıknatısın altına eşit mesafede mıknatıslar yerleştiriliyor.



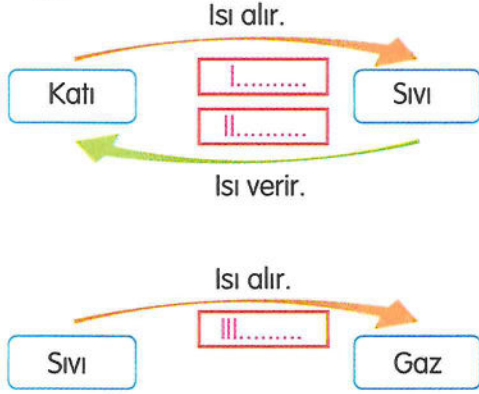
**Bu deneyle ilgili olarak,**

- I. 1. düzenekteki mıknatıslar birbirini iter.  
 II. 2. düzenekteki yayın boyu ilk duruma göre uzar.  
 III. 3. düzenekteki yayın boyu ilk duruma göre kısalır.

**Çıkarımlarından hangileri doğrudur?**

- A) Yalnız II  
 B) I ve II  
 C) I ve III  
 D) II ve III

11. Erdem, maddelerin hâl değişimleriyle ilgili olarak aşağıda verilmiş olan diyagramda boş bırakılan yerleri uygun kelimelerle dolduracaktır.



Buna göre Erdem'in I, II ve III numaralı yerlere yazması gereken kelimeler aşağıdakilerin hangisinde verilmiştir?

- |    | I     | II            | III           |
|----|-------|---------------|---------------|
| A) | Donma | Erime         | Buharlaştırma |
| B) | Erime | Buharlaştırma | Donma         |
| C) | Donma | Buharlaştırma | Erime         |
| D) | Erime | Donma         | Buharlaştırma |
12. Aşağıdakilerden hangisi besinleri tüketirken dikkat edilmesi gereken davranışlardan biri değildir?
- A) Sebze ve meyveler iyice yıkandıktan sonra tüketilmelidir.
- B) Besinler uygun ortamlarda saklanmalıdır.
- C) Son kullanma tarihi geçmiş besinler tercih edilmelidir.
- D) Katkı maddesi içermeyen, taze besinler tüketilmelidir.
13. Aşağıdakilerden hangisi yanlıştır?
- A) Işık kirliliği, yanlış ve plansız aydınlatmalardan kaynaklanır.
- B) Yanlış aydınlatmalar enerjinin boşa gitmesine neden olur.
- C) Aşırı aydınlatma göz sağlığını olumsuz etkiler.
- D) Aydınlatma güneş ışığı gibi her yöne olursa canlılara fayda sağlar.

- 14.



Grafikte K, L, M yerlerinde belirlenen ses kirliliği miktarları gösterilmiştir.

Buna göre K, L, M ile belirtilen yerler aşağıdakilerden hangisi olabilir?

	K	L	M
A)	Okul	Stadyum	Kütüphane
B)	Pazar yeri	Sinema	Eczane
C)	Eczane	Düğün salonu	AVM
D)	AVM	Okul	Kütüphane

- 15.

**BİLİYOR MUYDUNUZ?**  
**1 TON KULLANILMIŞ KÂĞIDIN GERİ DÖNÜŞTÜRÜLMESİYLE**

17 ağacın kesilmesi önlenir.

Ayda 3 ailenin tükettiği 32 m<sup>3</sup> su tasarrufu sağlanır.

12.400 m<sup>3</sup> kadar havayı kirleten gaz engellenir.

Posteri inceleyen öğrenciler aşağıdaki yorumları yapıyor:

**Mustafa:** Geri dönüşüm, doğal kaynakların korunmasını sağlar.

**Kemal:** Geri dönüşüm, uzun bir süreç olduğundan ekonomik değildir.

**Zübeyde:** Geri dönüşüm, enerji tasarrufu yapmamızı sağlar.

Buna göre öğrencilerden hangilerinin yorumları doğrudur?

- A) Yalnız Mustafa
- B) Mustafa ve Kemal
- C) Kemal ve Zübeyde
- D) Mustafa ve Zübeyde

**FEN BİLİMLERİ TESTİ BİTTİ.**  
**SOSYAL BİLGİLER TESTİNE GEÇİNİZ.**



**SOSYAL BİLGİLER**

1.

	Odamızı temiz ve düzenli tutmak okuldaki sorumluluklarımızdan biridir.
	Okula geç kalmamak okuldaki sorumluluklarımızdan biridir.
	Evdeki sorumluluklarımızdan biri de okula gitmeyip kardeşimize bakmaktır.
	Kişinin davranışlarının sonuçlarını üstlenmesine "sorumluluk" adı verilir.

**Tablodaki ifadeleri doğru-yanlış şeklinde değerlendirdiğimizde hangisi doğru olur?**

- A) D-D-Y-Y                      B) Y-D-D-Y                      C) D-Y-D-Y                      D) Y-D-Y-D

2. **Aşağıdakilerden hangisi sosyal kulüpler ile ilgili yanlış bir bilgidir?**

- A) Sorumluluk bilinci aşılar.  
B) Planlı olmayı öğretir.  
C) Derslerden geri kalmamıza neden olur.  
D) Sosyal becerileri artırır.

3. **Atatürk'ün aşağıdaki sözlerinden hangisi bağımsızlıkla ilgilidir?**

- A) Sanatsız kalan bir milletin hayat damarlarından biri kopmuş demektir.  
B) Egemenlik kayıtsız şartsız milletindir.  
C) İstikbal göklerdedir.  
D) Köylü milletin efendisidir.









4.

 <p>Azra</p>	<p>Azra, müzik ve dansı çok sever. Bu nedenle okuldaki sosyal kulüp seçmelerinde Halk Oyunları Kulübü'nü tercih etti.</p>
 <p>Emir</p>	<p>Emir, bilgisayar ve bilgisayar oyunlarını sever. Boş zamanlarında yazılım, yapay zekâ ve robotik kodlama ile ilgili çalışmalar yapar. Bu nedenle Şiir Kulübü'nü tercih etti.</p>
 <p>Beyza</p>	<p>Beyza, tam bir doğa tutkudur. Ailesiyle küçük yaştan beri doğa sporları yapar. Bunun için okulda İzcilik Kulübü'ne katıldı.</p>
 <p>Ege</p>	<p>Ege, büyüyünce veteriner olmak istiyor. Evde baktığı iki kedisi ve bahçede de bir köpeği var. Bu nedenle okulda Hayvanları Koruma Kulübü'nü tercih etti.</p>

Yukarıdaki tabloda öğrenciler, ilgi alanları ve seçtikleri kulüplerle ilgili bilgiler verilmiştir.

**Tablodaki çocuklardan hangisinin ilgi alanı ve seçtiği kulüp eşleşmesi yanlıştır?**

- A)  B)  C)  D) 

5. Aşağıdakilerden hangisi tarihimizde milletçe dayanışma gösterdiğimiz birlik beraberlik sergilediğimiz günlere örnek gösterilemez?

- A)  Anneler Günü  
 B)  Kurtuluş Savaşı  
 C)  15 Temmuz  
 D)  Doğal Afetler

6. Aşağıda verilenlerden hangisi beşerî unsurdur?

A)



B)




C)



D)



7.



Yukarıda verilen teknolojik ürünlerin ilk hâli ve günümüzde kullanılan hâli eşleştirmesinde hangisi hatalıdır?

A) I

B) II

C) III

D) IV



8. Dünyaya gelen bir bireyin en önemli hakkı aşağıdakilerden hangisidir?



Yaşama hakkı



Eğitim hakkı



Oyun hakkı



Sağlık hakkı

9. Çocuk hakları önem verilmesi ve herkes tarafından korunması gereken bir kavramdır. Çocukların sahip olduğu hakların genişletilmesi ve var olan haklarının sürdürülebilmesi için dünyanın her yerinde çalışma yapan birçok sivil toplum örgütü bulunmaktadır. Çocuklar, her daim geleceğimiz olduğundan, bu bilinçle hareket edilmesi ve çocuk hakları konusunda herkesin bilgilendirilmesi gereklidir. Çocuk hakları sözleşmesi bunun için vardır. 54 maddelik Çocuk Hakları Sözleşmesi'nin 10. maddesine göre, anne babası ayrı ülkelerde yaşayan çocukların aileleriyle birlikte olabilmeleri için devletler kolaylık gösterir.

Yukarıda verilen 10. madde aşağıdaki çocuk haklarından hangisidir?

- A) Seyahat hakkı  
B) Aile bireyleriyle yaşama hakkı  
C) Düşüncelerini söyleme hakkı  
D) Sağlık hakkı

10.

	Evdeki Sorumluluklarım	Okuldaki Sorumluluklarım
I.	Kişisel bakımımıza dikkat etmek	Ders çalışmak
II.	Ev eşyalarını temiz kullanmak	Sınıfı temiz tutmak
III.	Okul bahçesine çöp atmamak	Odamızı toplamak
IV.	Aile bireylerine saygılı davranmak	Sınıfta söz isteyerek konuşmak

Tabloda verilen sorumluluklar evdeki sorumluluklarım ya da okuldaki sorumluluklarım diye sınıflandırılmıştır.

Buna göre tablonun hangi satırında hata yapılmıştır?

- A) I  
B) II  
C) III  
D) IV

**SOSYAL BİLGİLER TESTİ BİTTİ.**  
**DİN KÜLTÜRÜ VE AHLAK BİLGİSİ TESTİNE GEÇİNİZ.**



## DİN KÜLTÜRÜ VE AHLAK BİLGİSİ

1. "Onlar bollukta da darlıkta da Allah yolunda harcarlar, öfkelerini yenerler, insanları affederler. Allah, işini güzel yapanları sever."

(Âl-i İmrân suresi, 134. ayet)

**Aşağıdakilerin hangisi bu ayetten çıkarılabilecek bir davranış biçimi olamaz?**

- A) İhtiyaç sahiplerine yardım etmek  
B) Hata yapanları affetmek  
C) Gösteriş yapmak  
D) İşini en iyi şekilde yapmak
2. Mekke şehri sıcak ve kurak bir iklime sahipti. Şehrin havası bebeklerin sağlıklı büyümesini zorlaştırıyordu. Bu yüzden Hz. Muhammed'in (sav.) doğduğu dönemde Mekkeliler çocuklarını bir süreliğine çevredeki köylerde yaşayan sütannelere verirlerdi. Hz. Muhammed (sav.) de bir sütanneye verildi. O, yaklaşık 4 yaşına kadar sütannesinin yanında büyüdü.

**Hz. Muhammed'in (sav.) metinde sözü edilen sütannesinin adı nedir?**

- A) Âmine  
B) Sümeyye  
C) Fâtıma  
D) Halime
3. "Ey iman edenler! Namaz kılmaya kalktığınız zaman yüzlerinizi, dirseklere kadar ellerinizi yıkayın; başlarınızı mesh edip topuklara kadar ayaklarınızı da yıkayın..."

(Mâide suresi, 6. ayet)

**Bu ayette açıklaması verilen ibadet aşağıdakilerden hangisidir?**

- A) Abdest almak  
B) Namaz kılmak  
C) Oruç tutmak  
D) Dua etmek

4. Yüce Allah Kur'an-ı Kerim'de "Yalnız beni anın ki ben de sizi anayım. Bana şükredin, sakın nankörlük etmeyin." (Bakara suresi, 152. ayet) ayetiyle kendisine şükredilmesini ve böylece nankörlükten uzak durulmasını emretmektedir.

**Buna göre aşağıdakilerden hangisi Allah'a şükür için kullanılan ifadelerdendir?**

- A) Elhamdülillah  
B) İnşallah  
C) Estağfirullah  
D) Maşallah

5. Allah'ın emriyle çeşitli görevleri yerine getiren, nurdan yaratılmış ve gözle görülmeyen varlıklara iman etmektir. Bu varlıklar; insanları koruyup kollar, onlar için dua eder ve insanların iyiliğini isterler.

**Bu metinde bahsedilen İslam'ın inanç esası hangisidir?**

- A) Meleklerle iman  
B) Allah'a iman  
C) Ahirete iman  
D) Kaza ve kadere iman

**DİN KÜLTÜRÜ VE AHLAK BİLGİSİ TESTİ BİTTİ.  
İNGİLİZCE TESTİNE GEÇİNİZ.**

## İNGİLİZCE


1.



**Görsele göre hangi seçenek doğrudur?**

- A) The books are near the microscope.
- B) The glue is on the book.
- C) The book is under the scissors.
- D) The microscope is next to the glue.

2.



**Görseledeki kişiye uygun olmayan ifade hangisidir?**

- A) Old
- B) Bald
- C) Thin
- D) Tall

3.



**Görsele ifade eden seçenek hangisidir?**

- A) skip a rope
- B) fly a kite
- C) swim
- D) ride a bike

4.



**Görsele ifade eden seçenek hangisidir?**

- A) I get up early.
- B) I wash my face.
- C) I do my homework.
- D) I play tennis.

5.



**Görsele göre sorunun cevabı hangisidir?**

**What time is it?**

- A) It's nine o'clock.
- B) It's half past nine.
- C) It's half past ten.
- D) It's ten o'clock.



6.



Susan is my mother. She works at a restaurant. She likes cooking.

Yukarıdaki konuşma balonuna göre, sorunun cevabı hangisidir?

**Who is John's mother?**

A)



B)



C)



D)



7.



Monday

Tuesday

Wednesday



Thursday

Friday

**Verilen hava durumu tablosuna göre, diyalogu tamamlayan ifade hangi seçenektir?**

**Angel:** Can I borrow your umbrella on ----?

**Rita:** Sure.

A) Monday

B) Friday

C) Wednesday

D) Tuesday

8. **Ted:** Can I go out?

**Mother:** ----.

**Diyaloğa uygun olmayan ifade hangisidir?**

A) Yes, you can

B) Sure

C) Sorry, not right now

D) Here you are

9.



Hello, I'm Julia. I'm from France. I am eleven years old. I can speak French and English. I can play the guitar and ride a bike. I can't swim.

Metne göre sorunun cevabı hangisidir?

**What nationality is Julia?**

A) Julia is eleven years old.

B) Julia is French.

C) Julia can't swim.

D) Julia can play the guitar.

10. **Bred:** ----?

**Thor:** He is a dentist.

**Diyaloğu tamamlayan seçenek hangisidir?**

A) Can he ride a bike

B) What is his name

C) What does he do

D) Where is he from

**SINAV BİTTİ.**

**CEVAPLARINIZI KONTROL EDİNİZ.**





